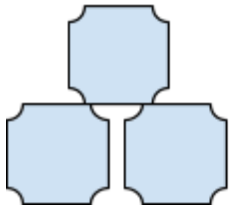
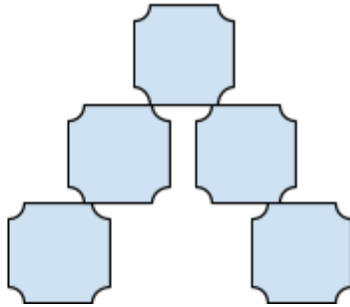


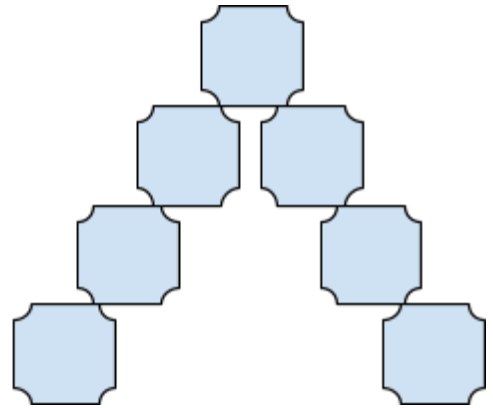
Hur förändras mönstret? Av Herman och Vidar



figur 1



figur 2



figur 3

figur	1	2	3	4	5	6	7	8	9	10	100
kvadrater											

a) Hur förändras mönstret? Fyll i tabellen.

b) Hur förändras mönstret? Beskriv med ord.

c) Hur förändras mönstret? Beskriv med mattespråk.