

Hur förändras mönstret?

Av Leo S

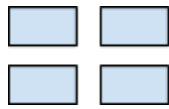


Fig 1

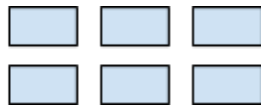


Fig 2

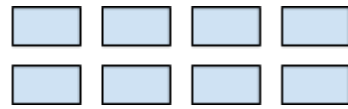


Fig 3

a) Skriv in i tabellen hur många prickar det är på de olika figurerna.

Figur	1	2	3	4	5	6	7	8	9	100
Antal prickar										

b) Beskriv hur mönstret förändrar sig med ord.

c) Beskriv hur mönstret förändrar sig med mattespråk.

d) Skapa ett eget liknande problem.