

Hur förändras mönstret? av Lorin

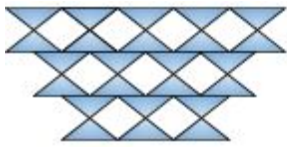


Fig 1

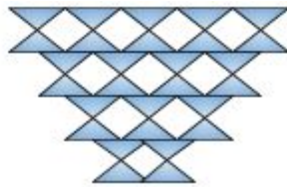


Fig 2

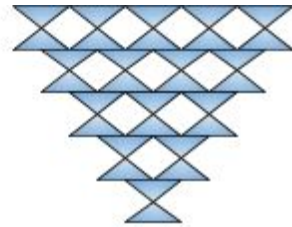


Fig 3

A) Skriv in i tabellen hur många figurer det är i de olika figurerna.

Fig	1	2	3	4	5	6	10	20	30	100
Antal										

B) Beskriv hur mönstret förändrar sig men ord.

C) Beskriv hur mönstret förändrar sig med mattespråk.