

Hur förändras mönstret?

Av: Lowa




Fig 1

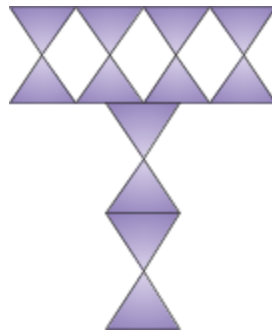


Fig 2

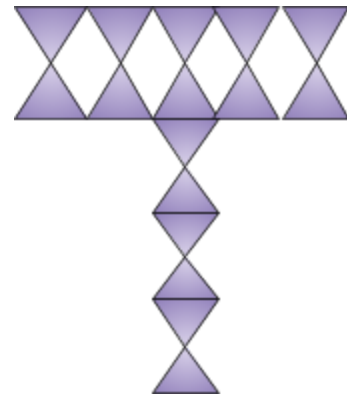


Fig 3

**a) Skriv in i tabellen hur många prickar det är i de olika figurerna.**

Fig	1	2	3	4	5	6	7	8	9	100
Antal prickar										

**b) Beskriv hur mönstret förändrar sig med ord.**

**c) Beskriv hur förändrar sig med mattespråk.**