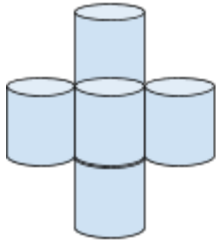


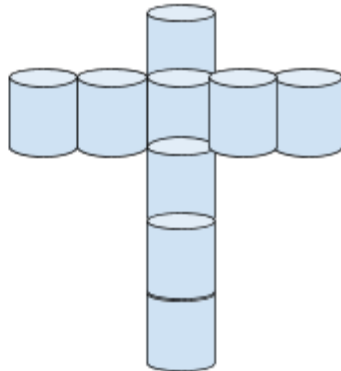
Hur förändras mönstret?

Av Malin

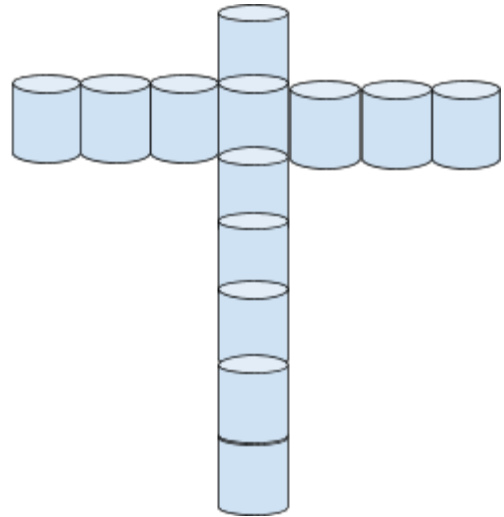
Figur 1



Figur 2



Figur 3



a) Skriv i tabellen hur många former det är i dom olika figurerna.

Figur	1	2	3	4	5	6	7	8	9	10	20	50	100
Antal former													

b) Beskriv hur mönstret förändrar sig med ord.

c) Beskriv hur mönstret förändrar sig med mattespråk.

d) Skapa ett eget liknande problem.