

Hur förändras mönstret av Selin




fig 1

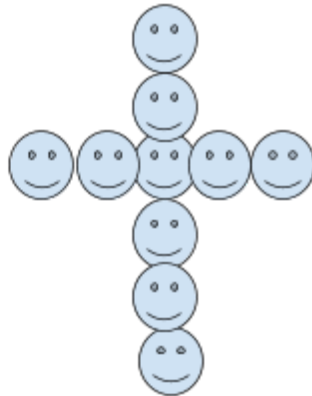


fig 2

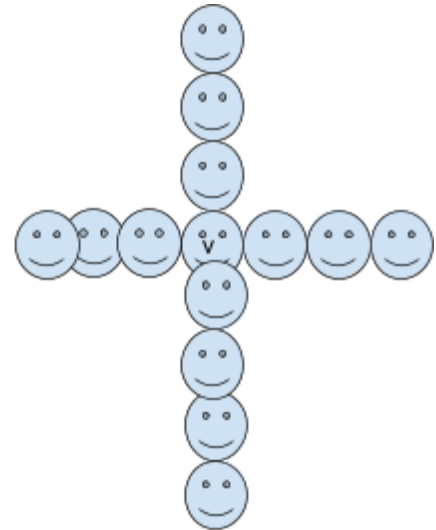


fig 3

A) Skriv i tabellen hur många former det är i dom olika figurerna.

Figur	1	2	3	4	5	6	7	8	9	10	20	50	100
Antal prickar													

B) beskriv hur mönstret förändrar sig med ord.

C) Beskriv hur mönstret förändras med mattespråk.

D) Skapa ett eget liknande nm, problem