

# Hur förändras mönstret?

Av Teo

Skriv in i tabellen hur många prickar det är i de olika figurerna.

|   |   |   |   |   |   |   |   |   |    |     |
|---|---|---|---|---|---|---|---|---|----|-----|
| 1 | 2 | 3 | 4 | 5 | 6 | 7 | 8 | 9 | 10 | 100 |
|   |   |   |   |   |   |   |   |   |    |     |

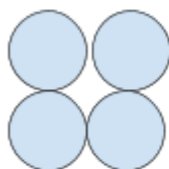


fig 1

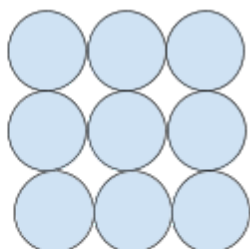


fig 2

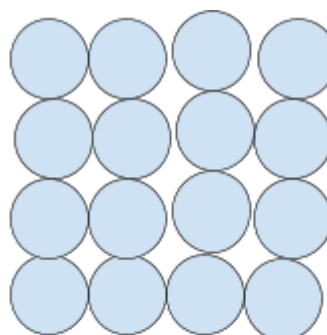


fig 3

b) Beskriv hur mönstret förändrar sig med ord.

c) Beskriv hur mönstret förändrar sig med mattespråk