
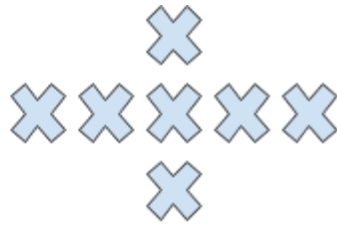


# Hur förändras mönstret? Av Theo



Figur 1



Figur 2




Fig 3

A) Skriv in i tabellen hur många X det är i de olika figurerna.

Figur	1	2	3	4	5	6	7	10	30	60	200
Antal X											

B) Beskriv med ord hur mönstret ökar.

C) Beskriv med matematiskt språk hur mönstret ökar.